















博物館ウォークラリー

山口県立山口博物館
社会見学ワークシート
年 月 日 ()

レベル3

学校 年 組 名前

かく てんじ なか こた み
各コーナーに展示されているものの中から答えを見つけよう。

展示コーナー	質 問	答 え
理工 	1 エジソン電球のフィラメント(光る部分)には、竹の繊維が使われています。長時間光る材料としてエジソンが選んだのは、日本のどこの竹でしょう？	
	2 このリニアモーターカーを動かしている電力は、何電池によって作られているでしょう？ 	
地学 	3 美祢市の秋吉台には、日本最大の○○○○台地があります。○○○○に当てはまる言葉は何でしょう。	
動物 	4 岩国市にいてることで有名な国の天然記念物に指定されているヘビの名前を答えましょう。	
	5 「生きている化石」といわれるこの生物は何でしょう？ 	
植物 	6 クマがさわっている木は何でしょう？ ヒント：展示物(ジオラマ)の前にある写真に答えが・・・ 	
考古・歴史 	7 写真の銅鏡が発見された茶臼山古墳があるのは、何市でしょう？ 	
	8 松下村塾で学んだ、右の人は誰でしょう？ 	
天文 	9 太陽のまわりをまわる惑星の中で最も大きいものは何でしょう？	
	10 右の星座は、冬の代表的な星座の○○○○座です。○○○○に当てはまる言葉は何でしょう？ 	

きょうそう
競争じゃないよ!!
よくみようね。



てんまんてん
10点満点だよ!!

てん
点